


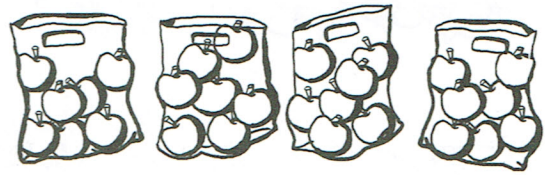

Geteiltaufgaben kennen lernen – Verteilen



12 Karten werden an
3 Kinder verteilt.

$$12 : 3 = \square$$



Jedes Kind erhält Karten.



28 Äpfel werden auf
4 Tüten verteilt.

$$28 : 4 = \square$$

In jeder Tüte sind Äpfel.



20 Kekse werden auf
5 Teller verteilt.

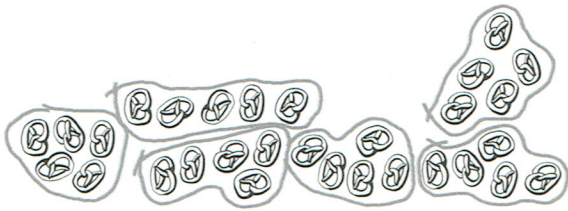
$$20 : 5 = \square$$

Auf jedem Teller sind Kekse.

Zu Bildern Geteiltaufgaben finden – Verteilen




Geteiltaufgaben kennen lernen – Aufteilen



Es sind 30 Brezeln.
Immer 5 werden in eine
Tüte verpackt.

$$30 : 5 = \square$$

Es sind Tüten.



Es sind 18 Brötchen.
Immer 3 werden in eine
Tüte verpackt.

$$18 : 3 = \square$$

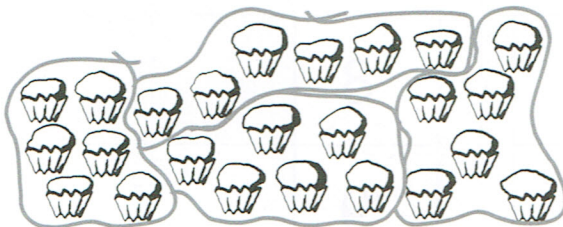
Es sind Tüten.



Es sind 12 Hörnchen.
Immer 4 werden in eine
Tüte verpackt.

$$12 : 4 = \square$$


Es sind Tüten.



Es sind 24 Törtchen.
Immer 6 werden in eine
Tüte verpackt.

$$24 : 6 = \square$$

Es sind Tüten.



Es sind 21 Windbeutel.
Immer 7 werden in eine
Tüte verpackt.

$$21 : 7 = \square$$

Es sind Tüten.